

РЕГИОНАЛЬНЫЙ ЭТАП ВСЕРОССИЙСКОЙ ОЛИМПИАДЫ  
ШКОЛЬНИКОВ 2018/2019 УЧЕБНОГО ГОДА  
ПО ОСНОВАМ БЕЗОПАСНОСТИ ЖИЗНЕДЕЯТЕЛЬНОСТИ  
8 февраля 2019 г.

Код/шифр участника

С	Т	-	0	2	5
---	---	---	---	---	---

Грибова Светлана Дмитриевна

(фамилия, имя, отчество)

11Б

(класс)

МБОУ «Гимназия №5», г. Сосновы Бор

(полное наименование образовательной организации)



ВСЕРОССИЙСКАЯ ОЛИМПИАДА ШКОЛЬНИКОВ ПО ОСНОВАМ  
БЕЗОПАСНОСТИ ЖИЗНЕДЕЯТЕЛЬНОСТИ  
(РЕГИОНАЛЬНЫЙ ЭТАП)  
ТЕОРЕТИЧЕСКИЙ ТУР

старшая возрастная группа (10-11 классы)

Код/шифр участника

С	Т	-	0	2	5
---	---	---	---	---	---

**Уважаемый участник Олимпиады!**

Вам предстоит выполнить теоретические (письменные) и тестовые задания.

Время выполнения заданий теоретического тура 4 академических часа (180 минут).

*Выполнение теоретических (письменных) заданий целесообразно организовать следующим образом:*

– не спеша, внимательно прочитайте задание и определите, наиболее верный и полный ответ;

– отвечая на теоретический вопрос, обдумайте и сформулируйте конкретный ответ только на поставленный вопрос;

– если Вы отвечаете на задание, связанное с заполнением таблицы или схемы, не старайтесь детализировать информацию, вписывайте только те сведения или данные, которые указаны в вопросе;

– особое внимание обратите на задания, в выполнении которых требуется выразить Ваше мнение с учетом анализа ситуации или поставленной проблемы. Внимательно и вдумчиво определите смысл вопроса и логику ответа (последовательность и точность изложения). Отвечая на вопрос, предлагайте свой вариант решения проблемы, при этом ответ должен быть кратким, но содержать необходимую информацию;

– после выполнения всех предложенных заданий еще раз удостоверьтесь в правильности выбранных Вами ответов и решений.

*Выполнение тестовых заданий целесообразно организовать следующим образом:*

– не спеша, внимательно прочитайте тестовое задание;

– определите, какой из предложенных вариантов ответа наиболее верный и полный;

– обведите кружком букву, соответствующую выбранному Вами ответу;

– продолжайте таким образом работу до завершения выполнения тестовых заданий;

– после выполнения всех предложенных заданий еще раз удостоверьтесь в правильности выбранных Вами ответов;

– если потребуется корректировка выбранного Вами варианта ответа, то неправильный вариант ответа зачеркните крестиком, а новый выбранный ответ обведите кружком.

*Предупреждаем Вас, что:*

– при оценке тестовых заданий, где необходимо определить один *правильный ответ*, 0 баллов выставляется как за неверный ответ, а также, если участником отмечены несколько ответов (в том числе правильный), или все ответы;


– при оценке тестовых заданий, где необходимо определить все *правильные ответы*, 0 баллов выставляется, если участником отмечено большее количество ответов, чем предусмотрено в задании (в том числе правильные ответы) или все ответы.

Задание теоретического тура считается выполненным, если Вы вовремя сдаете его членам жюри. **Максимальная оценка - 150 баллов.**

**Желаем вам успеха!**

Общая оценка результата выполнения участником заданий теоретического тура 88 баллов

Председатель жюри \_\_\_\_\_



## МОДУЛЬ 1

**ЗАДАНИЕ 1. Определите названия (значения) условных топографических знаков по их изображениям. Расшифруйте пояснительные условные знаки.**

Изображение	Название	Расшифровка
	Дамба	170 м - длина 8 м - ширина 50 м - глубина
	паровозный мост	285 м - длина 5x4 м <sup>2</sup> - площадь 5 м - высота
	брод	0,5 м - длина 17 м - ширина 0,1 м - глубина
	река	водный перекат

Оценочные баллы: максимальный — 12 баллов; фактический — 3 балла

Подписи членов жюри

**ЗАДАНИЕ 2.** Прочитайте текст и напишите пропущенные слова.

А) Неинфекционные заболевания (НИЗ), также известные как хронические заболевания, как правило, имеют продолжительное течение и являются результатом воздействия комбинации генетических, физиологических, экологических и поведенческих факторов.

В структуре смертности от НИЗ, по данным Всемирной организации здравоохранения, наибольшая доля приходится на сердечно-сосудистые заболевания.

Б) Прочитайте текст. Определите по перечисленным признакам о каком неотложном состоянии идёт речь в тексте.

Начинается с боли или неприятного ощущения в центре грудной клетки, которые продолжаются несколько минут или постоянно повторяются. Боль или неприятное ощущение может чувствоваться в руках, левом плече, локтевой области, челюсти или в спине. Другие симптомы включают:

- затрудненное дыхание или одышку;
- ощущение тошноты или рвоту;
- появление головокружения или слабости;
- появление холодного пота, бледности на лице.

Ответ: острая сердечная недостаточность

В) Опишите мероприятия первой помощи пострадавшему, у которого отмечаются признаки, перечисленные в части «Б» задания (пострадавший в сознании).

1. придать пострадавшему полусидячее положение
2. ослабить ремни, галстуки, расстегнуть пуговицы
3. ~~придать~~ обеспечить приток свежего воздуха
4. дать человеку валидол под язык, вытирать корвалол
5. срочно вызвать скорую помощь

Оценочные баллы: максимальный – 12 баллов; фактический – 6 баллов

Подписи членов жюри



**ЗАДАНИЕ 3.** Из предложенных списков соотнесите правильно: «Локализация возбудителя – Механизмы передачи инфекции – Инфекционное заболевание». Результат цифрами запишите в таблицу.

**Механизмы передачи инфекции:**

1. Аспирационный / аэрозольный / воздушно-капельный
2. Контактный
3. Трансмиссивный
4. Фекально-оральный / желудочно-кишечный

**Инфекционное заболевание:**

- ~~1.~~ Краснуха
2. Микоз кожи
- ~~3.~~ Брюшной тиф
4. Дизентерия
- ~~5.~~ Жёлтая лихорадка
- ~~6.~~ Коклюш
7. Малярия
- ~~8.~~ Сальмонеллез
9. Сибирская язва
10. Скарлатина
11. Туляремия
- ~~12.~~ Чесотка

Локализация возбудителя	Пути передачи инфекции	Инфекционные заболевания
Верхние дыхательные пути	1	1, 5, 10
Кишечник	4	4, 8, 6, 3
Кожа и слизистые оболочки тела	2, 1	2, 12, 9
Кровеносная и лимфатическая системы	3	7, 11

Оценочные баллы: максимальный – 17 баллов; фактический – 10 баллов

Подписи членов жюри

**ЗАДАНИЕ 4.** Селевые потоки зарождаются в горной местности и движутся по руслам рек, оврагам, имеющим в своих верховьях уклоны. Заполните схему, вписав три обязательных условия, совпадение которых необходимо для возникновения селя.

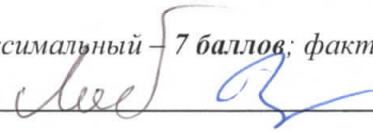
**1** разрушенная, ослабленная почва, которая не укреплена деревьями

**2** падение разрушенных горных пород

**3** превышение нормального уровня воды, наводок

Оценочные баллы: максимальный — 7 баллов; фактический — 4 баллов

Подписи членов жюри



**ЗАДАНИЕ 5.** Определите, поставив знак «+», какие поражающие факторы землетрясений и извержения вулканов относятся к первичным, а какие к вторичным.







<b>ПЕРВИЧНЫЕ ПОРАЖАЮЩИЕ ФАКТОРЫ</b>		аварии на опасных объектах, транспорте	+	<b>ВТОРИЧНЫЕ ПОРАЖАЮЩИЕ ФАКТОРЫ</b>
		вулканические бомбы (застывшие кусочки лавы)	+	
	+	каменная пена (пемза)		
	+	лавовые фонтаны		
		наводнения из-за запруживания рек	+	
	+	обвалы, оползни		
		обрыв линий электропередач, газопроводных и канализационных сетей	+	
	+	палящая туча (раскаленные пыль, газы)		
	+	потоки вулканической грязи		
		разрушение зданий, сооружений и коммуникаций	+	
	+	смещение, вибрация почвогрунтов		

Оценочные баллы: максимальный – 11 баллов; фактический – 7 баллов

Подписи членов жюри



**ЗАДАНИЕ 6.** Определите и отметьте знаком «+», какие из приведённых дорожных знаков запрещают движение автомобилей, а какие мотоциклов.

<b>ЗНАКИ, ЗАПРЕЩАЮЩИЕ ДВИЖЕНИЕ АВТОМОБИЛЕЙ</b>	+			<b>ЗНАКИ, ЗАПРЕЩАЮЩИЕ ДВИЖЕНИЕ МОТОЦИКЛОВ</b>
	+			
	+		+	
	+		+	
	+			
			+	

Оценочные баллы: максимальный — 8 баллов; фактический — 3 баллов

Подписи членов жюри



**ЗАДАНИЕ 7.** Сегодня в фокусе внимания экстремистских и террористических организаций оказалась молодёжь. При вовлечении самым активным образом используются деструктивные психотехники.

Перечислите признаки, позволяющие предположить, что в отношении человека ведется деструктивное психологическое воздействие.

1. человек отдаляется от старых друзей и знакомых 2
2. в его окружении появляется новая незнакомая компания 2
3. человек становится закрытым, иногда агрессивным 2
4. появляются новые привычки и манеры поведения, принятые в компании -
5. новое окружение заражает человека идеей, что терроризм - высшая цель для достижения благополучия 2
6. вселяется вера, что экстремизм и терроризм является главным предназначением человека 2
7. человека ~~а~~ агрессивно настроивают против действительности, пробуждают в нём желание уничтожить всё вокруг 2
8. человека подсаживают на наркотики, разрушающие его психику 2
9. проводится информационное воздействие с целью подрыва духовных и патристических традиций 2

Оценочные баллы: максимальный - 10 баллов; фактический - <sup>4</sup>~~10~~ баллов

Подписи членов жюри

**ЗАДАНИЕ 8.** Определите, поставив знак «+», какие мероприятия, проводимые органами управления и силами РСЧС относятся к режиму повседневной деятельности, а какие к режиму повышенной готовности.

В РЕЖИМЕ ПОВСЕДНЕВНОЙ ДЕЯТЕЛЬНОСТИ		Введение при необходимости круглосуточного дежурства руководителей и должностных лиц органов управления и сил единой системы на стационарных пунктах управления	+	В РЕЖИМЕ ПОВЫШЕННОЙ ГОТОВНОСТИ
	+	Изучение состояния окружающей среды и прогнозирование чрезвычайных ситуаций		
		Непрерывный сбор, обработка и передача органам управления и силам единой системы данных о прогнозируемых чрезвычайных ситуациях, информирование населения о чрезвычайных ситуациях	+	
	+	Осуществление в пределах своих полномочий необходимых видов страхования		
	+	Планирование действий органов управления и сил единой системы, организация подготовки и обеспечения их деятельности		
		Подготовка населения к действиям в чрезвычайных ситуациях, в том числе при получении сигналов экстренного оповещения	+	
		Принятие оперативных мер по предупреждению возникновения и развития чрезвычайных ситуаций, снижению размеров ущерба и потерь в случае их возникновения, а также повышению устойчивости и безопасности функционирования организаций в чрезвычайных ситуациях	+	
	+	Пропаганда знаний в области защиты населения и территорий от чрезвычайных ситуаций и обеспечения пожарной безопасности		
	+	Разработка и реализация целевых и научно-технических программ и мер по предупреждению чрезвычайных ситуаций и обеспечению пожарной безопасности		
		Руководство созданием, размещением, хранением и восполнением резервов материальных ресурсов для ликвидации чрезвычайных ситуаций	+	
	Усиление контроля за состоянием окружающей среды, прогнозирование возникновения чрезвычайных ситуаций и их последствий	+		

Оценочные баллы: максимальный – 11 баллов, фактический – 7 баллов

Подписи членов жюри

*[Handwritten signatures]*

**ЗАДАНИЕ 9.** В тексте, приведённом ниже, содержатся полномочия Президента Российской Федерации и полномочия Правительства Российской Федерации в области гражданской обороны. Разделите их, поставив напротив полномочий Президента – цифру 1, напротив полномочий Правительства – цифру 2.

Полномочия в области гражданской обороны	Ответ (цифра)
Определяет основные направления единой государственной политики в области гражданской обороны	1 +
Обеспечивает проведение единой государственной политики в области гражданской обороны	2 +
Определяет порядок приведения в готовность гражданской обороны	2 +
Утверждает План гражданской обороны и защиты населения Российской Федерации	1 +
Определяет порядок создания убежищ и иных объектов гражданской обороны, а также порядок накопления, хранения и использования в целях гражданской обороны запасов материально-технических, продовольственных, медицинских и иных средств	2 +
Вводит в действие План гражданской обороны и защиты населения Российской Федерации на территории Российской Федерации или в отдельных ее местностях в полном объеме или частично	1 +
Издаёт нормативные правовые акты в области гражданской обороны и организует разработку проектов федеральных законов в области гражданской обороны	2 +

Оценочные баллы: максимальный – 7 баллов; фактический – 7 баллов

Подписи членов жюри




**ЗАДАНИЕ 10.** Характер воздействия радиации на организм человека зависит от вида ионизирующего излучения и его дозы. На основании приведенных проникающей способности, приёмов защиты и природы излучения определите вид излучения.

Вид излучения	Проникающая способность и приёмы защиты
Гамма-излучение —	<p><b>Очень высокая</b></p> <p>Каменные стены ослабляют дозу в 10 раз, деревянные – в 2 раза, подвал каменного дома – в 40 100 раз.</p>
Альфа излучение +	<p><b>Слабая (несколько микрон)</b></p> <p>Это излучение задерживает обычный лист бумаги, поэтому одежда защищает от внешнего облучения. Опасность представляет попадание частиц внутрь организма с пищей, водой, воздухом.</p>
Бета излучение +	<p><b>Высокая</b></p> <p>Одежда не может полностью защитить, нужно использовать любое укрытие.</p>
Нейтронное излучение +	<p><b>Очень высокая</b></p> <p>Наиболее опасное излучение. Надёжная защита – убежище, противорадиационное укрытие, глубокий подвал.</p>

Оценочные баллы: максимальный – 8 баллов; фактический – 6 баллов

Подписи членов жюри

**ЗАДАНИЕ 11.** Петличные знаки на военной одежде – знаки различия по функциональному предназначению. Впишите в таблицу буквы, соответствующие названиям родов войск (правая колонка), принадлежности к которым обозначают приведенные в левой колонке петличные знаки.

	Изображение		Название
1.		А	Инженерные войска ВС РФ
2.		Б	Автомобильные войска ВС РФ
3.		В	Войска РХБЗ ВС РФ
4.		Г	Войска связи ВС РФ
5.		Д	Ракетные войска стратегического назначения

**Ответ:**

1	2	3	4	5
Г	А	В	Б	Д

Оценочные баллы: максимальный – 5 баллов; фактический – 5 баллов

Подписи членов жюри

**ЗАДАНИЕ 12.** В военной доктрине Российской Федерации прописаны основные внутренние военные опасности и военные угрозы. Отметьте знаком «+» в соответствующих столбцах таблицы те, которые относятся к основным внутренним военным опасностям и военным угрозам.

ОСНОВНЫЕ ВНУТРЕННИЕ ВОЕННЫЕ ОПАСНОСТИ		Деятельность, направленная на насильственное изменение конституционного строя Российской Федерации, дестабилизацию внутривнутриполитической и социальной ситуации в стране, дезорганизацию функционирования органов государственной власти, важных государственных, военных объектов и информационной инфраструктуры Российской Федерации	+ ✓	ОСНОВНЫЕ ВОЕННЫЕ УГРОЗЫ
	+	Создание и подготовка незаконных вооружённых формирований, их деятельность на территории Российской Федерации или на территориях её союзников	✓	
		Воспрепятствование работе систем государственного и военного управления Российской Федерации, нарушение функционирования её стратегических ядерных сил, систем предупреждения о ракетном нападении, контроля космического пространства, объектов хранения ядерных боеприпасов, атомной энергетики, атомной, химической, фармацевтической и медицинской промышленности и других потенциально опасных объектов	+	
	+	Деятельность по информационному воздействию на население, в первую очередь на молодых граждан страны, имеющая целью подрыв исторических, духовных и патриотических традиций в области защиты Отечества		
	+	Провоцирование межнациональной и социальной напряжённости, экстремизма, разжигание этнической и религиозной ненависти либо вражды.		
		Резкое обострение военно-политической обстановки (межгосударственных отношений) и создание условий для применения военной силы	+	
	+	Деятельность террористических организаций и отдельных лиц, направленная на подрыв суверенитета, нарушение единства и территориальной целостности Российской Федерации		
		Демонстрация военной силы в ходе проведения учений на территориях сопредельных с Российской Федерацией или на территориях её союзников	+	
		Активизация деятельности вооружённых сил отдельных государств (групп государств) с проведением частичной или полной мобилизации, переводом органов государственного и военного управления этих государств на работу в условиях военного времени	+	

Оценочные баллы: максимальный – 9 баллов; фактический – 7 баллов

Подписи членов жюри \_\_\_\_\_

**МОДУЛЬ 2**  
**Тестовые задания**

№ п/п	Тестовые задания	Макс. балл	Кол-во набранных баллов
<i>Определите один правильный ответ</i>			
1.	<p><b>В случае, если велосипедисту необходимо объехать стоящий у тротуара автомобиль, он должен:</b></p> <p>а) объехать автомобиль слева, убедившись в безопасности маневра;</p> <p><input checked="" type="radio"/> б) подать рукой сигнал перестроения налево, убедиться в безопасности объезда и только после этого совершить маневр;</p> <p>в) подать сигнал и совершить объезд препятствия (сигнал дает велосипедисту преимущество);</p> <p>г) дождаться, когда автомобиль начнет движение.</p>	1	1
2.	<p><b>При пероральном отравлении нельзя вызывать рвоту у пострадавшего, если:</b></p> <p>а) у пострадавшего уже была рвота;</p> <p>б) произошло отравление лекарственными препаратами;</p> <p>в) отравление произошло, но он хорошо себя чувствует;</p> <p><input checked="" type="radio"/> г) произошло отравление веществами прижигающего действия.</p>	1	1
3.	<p><b>Знак дорожного движения «Конец всех ограничений» относится к группе:</b></p> <p><input checked="" type="radio"/> а) предупреждающие знаки;</p> <p>б) знаки приоритета;</p> <p>в) запрещающие знаки;</p> <p>г) предписывающие знаки.</p>	1	0
4.	<p><b>Продолжительность рабочего времени для трудящихся в возрасте до 16 лет должна быть не более:</b></p> <p>а) четырех часов в течение одного рабочего дня;</p> <p>б) 16 часов в неделю;</p> <p>в) 8 часов в неделю;</p> <p><input checked="" type="radio"/> г) 24 часов в неделю.</p>	1	0



5.	<p><b>Чрезвычайное положение на всей территории Российской Федерации или в её отдельных местностях вводится:</b></p> <p><input checked="" type="radio"/> а) Указом Президента Российской Федерации;</p> <p>б) Постановлением Правительства Российской Федерации;</p> <p>в) Постановлением Верховного Суда Российской Федерации;</p> <p>г) Постановлением Государственной Думы Российской Федерации;</p> <p>д) Постановлением Совета Федерации Российской Федерации.</p>	1	1
6.	<p><b>Аварии на коммунальных системах по скорости распространения относятся к:</b></p> <p><input checked="" type="radio"/> а) внезапным;</p> <p>б) стремительным;</p> <p>в) умеренным;</p> <p>г) плавным.</p>	1	0
7.	<p><b>Одной из причин осечки в АК-74 является:</b></p> <p>а) неисправность защелки магазина;</p> <p>б) загрязнение трущихся частей, газовых путей или патронника;</p> <p>в) заклинивание ударника в затворе;</p> <p><input checked="" type="radio"/> г) неисправность пружины возвратного механизма.</p>	1	0
8.	<p><b>Перестроение отделения из развёрнутого строя в колонну производится по команде:</b></p> <p>а) отделение, в колонну – становись;</p> <p><input checked="" type="radio"/> б) отделение, в колонну по одному (по два) – становись;</p> <p>в) отделение, напра-ВО;</p> <p>г) отделение, нале-ВО.</p>	1	0
9.	<p><b>Корабельное воинское звание «старшина 1 статьи»:</b></p> <p><input checked="" type="radio"/> а) соответствует войсковому воинскому званию «сержант»;</p> <p>б) старше по званию войскового воинского звания «сержант»;</p> <p>в) младше по званию войскового воинского звания «сержант»;</p> <p>г) соответствует войсковому воинскому званию «старшина».</p>	1	1
10.	<p><b>Поражение электрическим током напряжением до 380 В, вызывает у пострадавшего следующее повреждение:</b></p> <p>а) электрические метки;</p> <p><input checked="" type="radio"/> б) судороги и спазм дыхательной мускулатуры;</p> <p>в) отек мозга;</p> <p>г) разрывы внутренних органов.</p>	1	0

*Определите все правильные ответы*

11.	<p><b>Отметьте признаки будущего ухудшения погоды:</b></p> <p>а) воробьи «купаются» в пыли;</p> <p>б) ель распрямляет длинные ветви;</p> <p><input checked="" type="checkbox"/> в) утром туман стелется по земле;</p> <p><input checked="" type="checkbox"/> г) вечером сильно пахнет травой;</p> <p><input checked="" type="checkbox"/> д) вечерняя заря красного цвета;</p> <p>е) вечером небо золотистого или розового цвета.</p>	3	2
12.	<p><b>Контрольные узлы обязательно вяжутся на следующих туристических узлах:</b></p> <p><input checked="" type="checkbox"/> а) ткацкий;</p> <p>б) грейпвайн;</p> <p>в) двойной проводник;</p> <p>г) академический;</p> <p><input checked="" type="checkbox"/> д) австрийский проводник.</p>	2	1
13.	<p><b>Признаками приближения бури, урагана и смерча могут служить:</b></p> <p><input checked="" type="checkbox"/> а) усиление скорости ветра;</p> <p>б) подъем уровня воды;</p> <p><input checked="" type="checkbox"/> в) резкое падение атмосферного давления;</p> <p>г) быстрое обнажение морского дна.</p>	2	2
14.	<p><b>Роль окислителя при возникновении и развитии пожара может выполнять:</b></p> <p><input checked="" type="checkbox"/> а) азот;</p> <p><input checked="" type="checkbox"/> б) окислы азота;</p> <p>в) метан;</p> <p>г) пропан;</p> <p>д) фтор.</p>	2	1
15.	<p><b>На вооружении спасательных воинских формирований федерального органа исполнительной власти, уполномоченного на решение задач в области гражданской обороны, находится:</b></p> <p><input checked="" type="checkbox"/> а) специальная техника;</p> <p><input checked="" type="checkbox"/> б) боевое ручное стрелковое оружие;</p> <p>в) бронетанковая техника;</p> <p>г) средства установки минных заграждений;</p> <p>д) средства борьбы с воздушными целями.</p>	2	2

16.	<b>Основными загрязнителями воздуха являются:</b> <input type="radio"/> а) нефтепродукты; <input type="radio"/> б) пестициды; <input checked="" type="radio"/> в) сажа; <input type="radio"/> г) углеводороды.	2	1
17.	<b>Первичные средства пожаротушения подразделяются на следующие типы:</b> <input type="radio"/> а) средства пожарной сигнализации; <input type="radio"/> б) пожарный инвентарь; <input type="radio"/> в) пожарные машины; <input checked="" type="radio"/> г) генераторные огнетушители аэрозольные переносные.	2	1
18.	<b>Офицер в звании капитан-лейтенант является начальником для всех:</b> <input type="radio"/> а) мичманов; <input checked="" type="radio"/> б) сержантов; <input checked="" type="radio"/> в) лейтенантов; <input type="radio"/> г) прапорщиков; <input type="radio"/> д) старших матросов.	2	1
19.	<b>К личному оружию военнослужащих относятся:</b> <input checked="" type="radio"/> а) граната ручная; <input type="radio"/> б) гранатомёт станковый; <input type="radio"/> в) карабин; <input type="radio"/> г) лопата малая сапёрная; <input checked="" type="radio"/> д) пистолет; <input checked="" type="radio"/> е) автомат.	3	2
20.	<b>Укажите даты – Дни воинской славы – установленные в честь морских побед Российского флота:</b> <input type="radio"/> а) 02 февраля; <input checked="" type="radio"/> б) 07 июля; <input checked="" type="radio"/> в) 10 июля; <input checked="" type="radio"/> г) 09 августа; <input type="radio"/> д) 23 августа; <input type="radio"/> е) 11 сентября.	3	2
	<b>Количество баллов</b>	<i>max</i> 33	19

Подписи членов жюри \_\_\_\_\_

